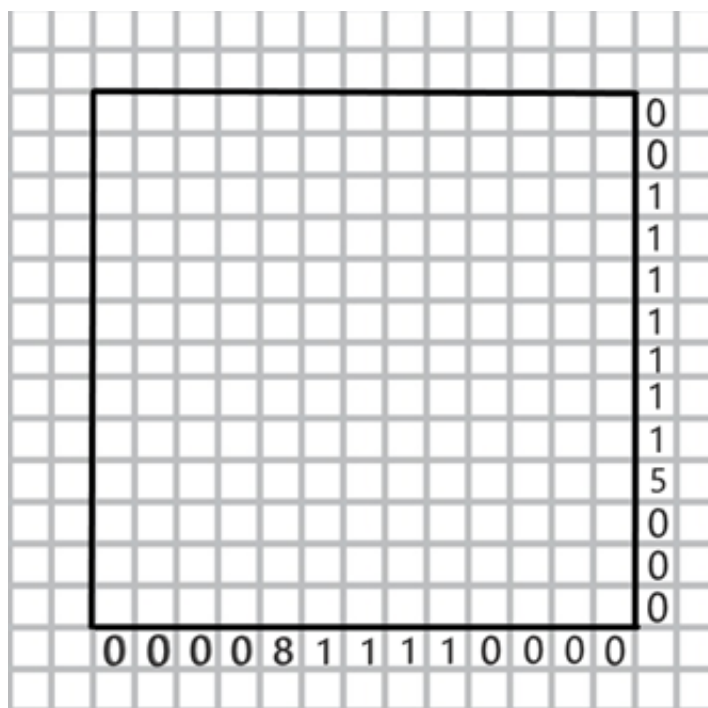



Dana je mreža kvadratkov (gobelin). Nekatere kvadratke moramo pobarvati. Število števil ob desnem robu vsake vrstice in pod vsakim stolpcem pove, koliko skupin pobarvanih kvadratkov je v posamezni vrstici oziroma stolpcu. Številke pa povedo, koliko zaporednih pobarvanih kvadratkov je v posamezni skupini. Med dvema skupinama pobarvanih kvadratkov mora biti vsaj en nepobarvan kvadrater. (Na primer: 1, 2, 3 ob robu vrstice pomeni, da so v tisti vrstici tri skupine pobarvanih kvadratkov, prva skupina ima 1, druga 2, tretja pa 3 pobarvane kvadratke.) Če kvadrater zanesljivo ni pobarvan, ga lahko označiš z X. Pobarvaj gobelin!


1. Matematični gobelin



2. Matematični gobelin



3. Matematični gobelin



4. Matematični gobelin

